

선택과목

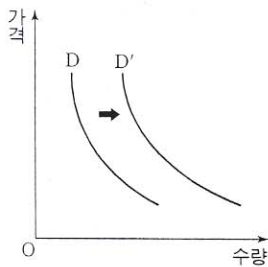
경제

71. 경제 생활에서 다음과 같은 문제에 직면하는 근본 원인은?

- 여윈 돈으로 주식 투자를 할 것인가, 여행을 갈 것인가?
- 세금으로 도로를 만들 것인가, 실업자를 지원할 것인가?
- 대출금으로 공장을 자동화할 것인가, 종업원을 늘릴 것인가?

- ① 자원의 희소성 ② 시장의 실패
- ③ 정부 계획의 한계 ④ 부의 불평등한 분배
- ⑤ 경제 정보의 부정확성

72. 다음 수요 곡선의 변화에 해당하는 예로 가장 적절한 것은?



- | | |
|-------------|--------|
| 변화 요인 | 상품 |
| ① 전기 요금 인상 | 절전형 전구 |
| ② 특별 소비세 인상 | 고급 양주 |
| ③ 광우병 파동 | 쇠고기 |
| ④ 금연 캠페인 전개 | 담배 |
| ⑤ 채식 열풍 | 육류 |

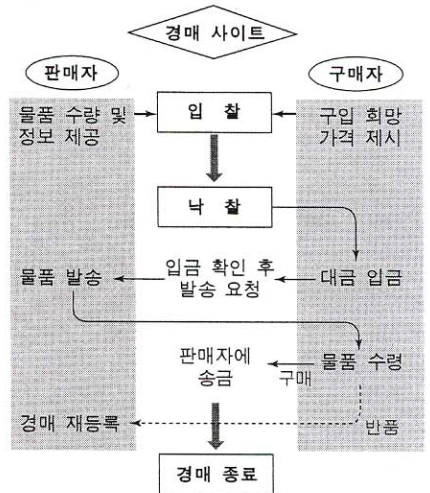
73. 다음 자료를 보고 철수는 "금년도 도시 근로자 가구의 실질 소득은 작년도에 비해 10% 이상 상승할 것이다."라고 추정하였다. 이를 확인하기 위해 추가로 수집해야 할 정보를 <보기>에서 모두 고른 것은? [2점]

도시 근로자의 임금 변화	
작년도(월평균)	200만원
금년도(월평균)	225만원

- <보기>
- ㄱ. 환율
 - ㄴ. 물가 상승률
 - ㄷ. 도시 근로자의 임금 외 소득 변화
 - ㄹ. 도시 근로자 가구의 가구원* 소득 변화
 - ㅁ. 도시 근로자 가구의 소비 지출액 변화
- * 가구원 : 가구주 이외의 가구 구성원

- ① ㄱ, ㄴ, ㄷ ② ㄱ, ㄴ, ㅁ ③ ㄴ, ㄷ, ㄹ
- ④ ㄴ, ㄷ, ㅁ ⑤ ㄷ, ㄹ, ㅁ

74. 그림은 인터넷 경매의 흐름을 나타낸 것이다. 인터넷 경매에 대한 설명으로 옳지 않은 것은? [2점]



- ① 경쟁의 성격을 가지고 있다.
- ② 인터넷을 통해 거래하는 추상적 시장 형태이다.
- ③ 사이트 운영자가 '보이지 않는 손'의 역할을 한다.
- ④ 거래의 안전성을 높이기 위한 장치를 갖추고 있다.
- ⑤ 유통 구조를 단순화시켜 기업의 비용 절감을 가능하게 한다.

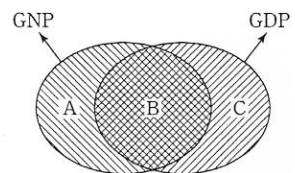
75. 다음 사례와 성격이 같은 판매 전략을 <보기>에서 모두 고른 것은?

A사는 최근 대학 입시 수험생만을 위한 컴퓨터 특별 할인 판매를 한다고 광고하였다. 본인이 수험표를 가지고 매장을 방문하여 구입할 경우 최신 기종 컴퓨터를 10% 할인하여 판매한다는 것이다.

- <보기>
- ㄱ. 백화점의 서비스 실명제
 - ㄴ. 연예인 팬 사인회 이벤트
 - ㄷ. 전기 회사의 심야 요금 할인
 - ㄹ. 철도의 주말 요금 탄력 운임제

- ① ㄱ, ㄴ ② ㄱ, ㄷ ③ ㄴ, ㄷ ④ ㄴ, ㄹ ⑤ ㄷ, ㄹ

76. 그림에 대한 옳은 설명을 <보기>에서 모두 고른 것은? [2점]



- <보기>
- ㄱ. 폐쇄 경제하에서는 A=C=0이다.
 - ㄴ. 국내에서 외국 기업이 번 돈은 A에 해당한다.
 - ㄷ. 탈냉전은 B의 비중이 낮아지는 원인을 제공한다.
 - ㄹ. (A+B)보다 (B+C)가 국민 복지 수준을 더 정확하게 나타낸다.

- ① ㄱ, ㄴ ② ㄱ, ㄷ ③ ㄴ, ㄷ ④ ㄴ, ㄹ ⑤ ㄷ, ㄹ

18 인문계 사회탐구 · 과학탐구 영역

77. (가), (나)에서 강조하는 화폐의 기능을 바르게 묶은 것은?

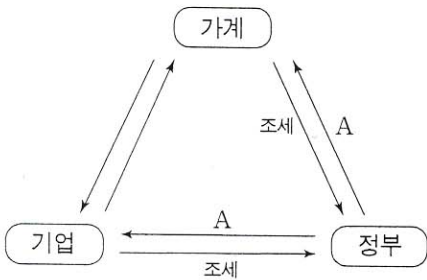
- (가) 감자를 가지고 있으면서 신발을 원하는 사람이, 신발을 가지고 있으면서 감자를 원하는 사람을 찾기는 어렵다. 이 경우 교환이 이루어지기 위해서는 다른 사람에게 돈을 받고 감자를 팔고 난 후, 이 돈을 신발을 사기 위해 지불하면 된다.
- (나) 사과는 1,000원이고, 복숭아는 500원이다. 사과와 복숭아를 교환하고자 하는 사람은 한 개의 사과와 두 개의 복숭아를 교환할 수 있다.

〈보기〉

- ㄱ. 가치의 척도 ㄴ. 교환의 매개체
 ㄷ. 가치의 저장 수단 ㄹ. 거래의 결제 수단

- (가) (나)
- ① ㄱ ㄴ
 ② ㄱ ㄷ
 ③ ㄴ ㄱ
 ④ ㄴ ㄹ
 ⑤ ㄷ ㄴ

78. 그림은 국민 경제 활동의 흐름을 정리한 것이다. A와 관련하여 옳은 설명을 〈보기〉에서 모두 고른 것은?



〈보기〉

- ㄱ. 시장 기능에 맡기면 공급이 사회적 최적 수준에 미치지 못한다.
 ㄴ. 비용을 지불하지 않은 '무임 승차자'에게는 혜택이 주어지지 않는다.
 ㄷ. 가계와 기업에 제공되는 서비스의 수준은 세금 부담과 관계 없이 결정된다.
 ㄹ. 생산량 제한 등의 방법으로 수급을 조절하는 것은 이윤을 추구하기 위해서이다.

- ① ㄱ, ㄴ ② ㄱ, ㄷ ③ ㄴ, ㄷ ④ ㄴ, ㄹ ⑤ ㄷ, ㄹ

79. 다음 신문 기사를 바르게 이해하고 있는 사람들을 〈보기〉에서 모두 고른 것은? [2점]

A국 소득세 폐지 소비세 신설 결정

본국에서는 소득세 폐지, 소비세 신설을 결정하여, 국민들의 조세 저항을 줄이고, 저축을 늘리는 효과를 가질 것이다. 소비세를 늘리면 기업의 투자는 증가하게 되며, 소비세는 우리나라의 부가 가치세와 성격이 비슷해...

〈보기〉

- 갑 : A국 전체 국민들의 조세 저항이 늘어날 거야.
 을 : 소득세 폐지는 저축을 늘리는 효과를 가질 거야.
 병 : 소비세를 늘리면 기업의 투자는 증가하게 되지.
 정 : 소비세는 우리나라의 부가 가치세와 성격이 비슷해.

- ① 갑, 을 ② 갑, 정 ③ 을, 병 ④ 을, 정 ⑤ 병, 정

80. 참석자들의 진단이 옳다면 장차 우리 나라의 거시 경제 지표는 어떤 영향을 받게 될까? [2점]



- | | 물가 수준 | 생산 수준 |
|---|-------|--------|
| ① | 상승 | 증가 |
| ② | 상승 | 감소 |
| ③ | 하락 | 증가 |
| ④ | 하락 | 감소 |
| ⑤ | 상승 | 알 수 없다 |

* 확인 사항

○ 답안지의 해당란에 필요한 내용을 정확히 기입(표기)했는지 확인한 후 답안지를 제출하십시오.